

ウォークラリーコース図 No.1

<図に出てくる記号の意味>

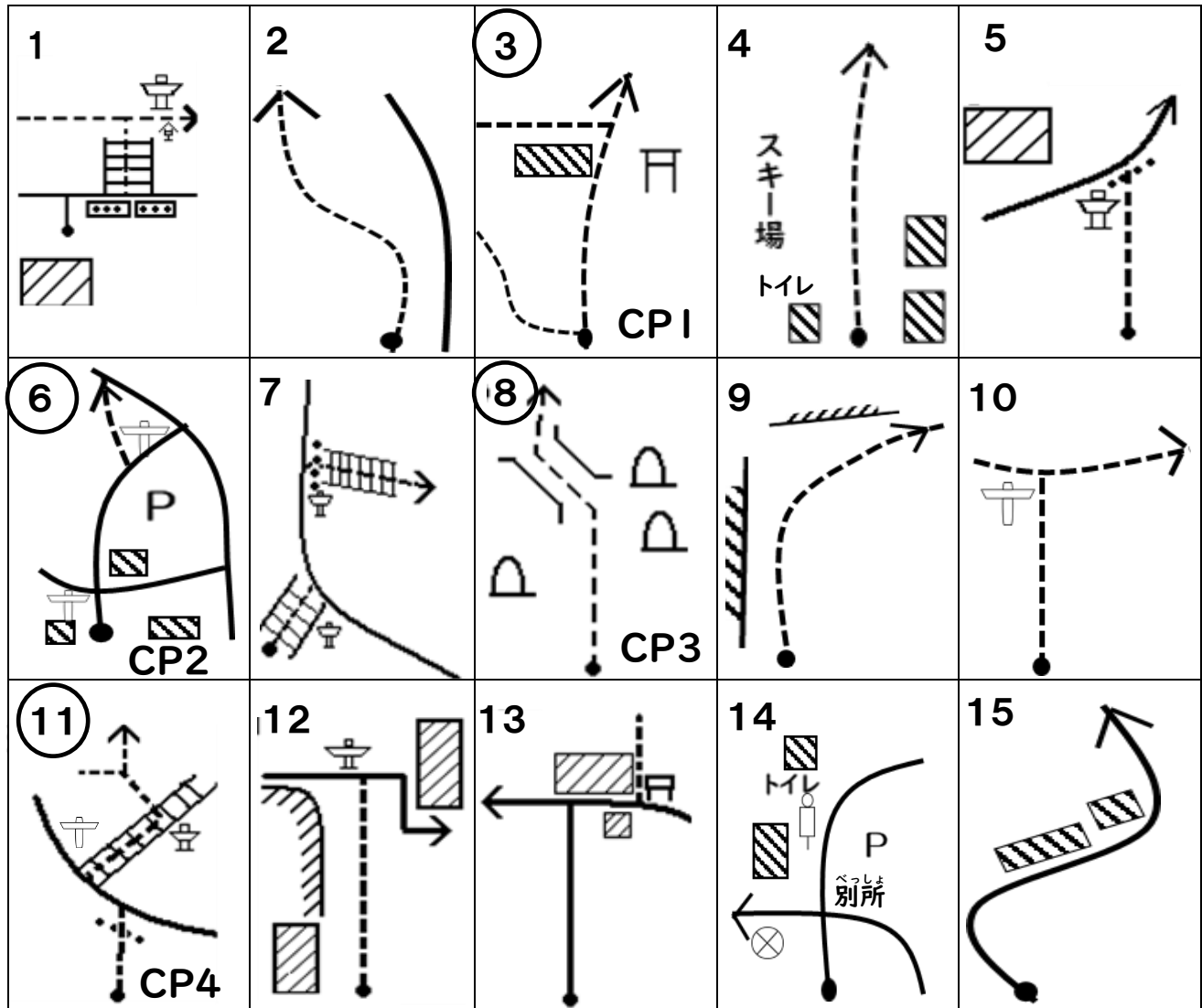
● 自分の位置	→ 道路	→ 進む方向	⊗ 交番	//// 石垣
⌌ 鳥居	- - - 小道	- - - 進む方向	▨ 家屋、建物	~~~~ 金網
○ バス停	⊥ 道しるべ	⊥ 進む方向	≡ 階段	●●● 車止め
≡ 橋	⌒ 石碑	⌒ 進む方向	P 駐車場	CP 問題を解く場所

<気をつけること>

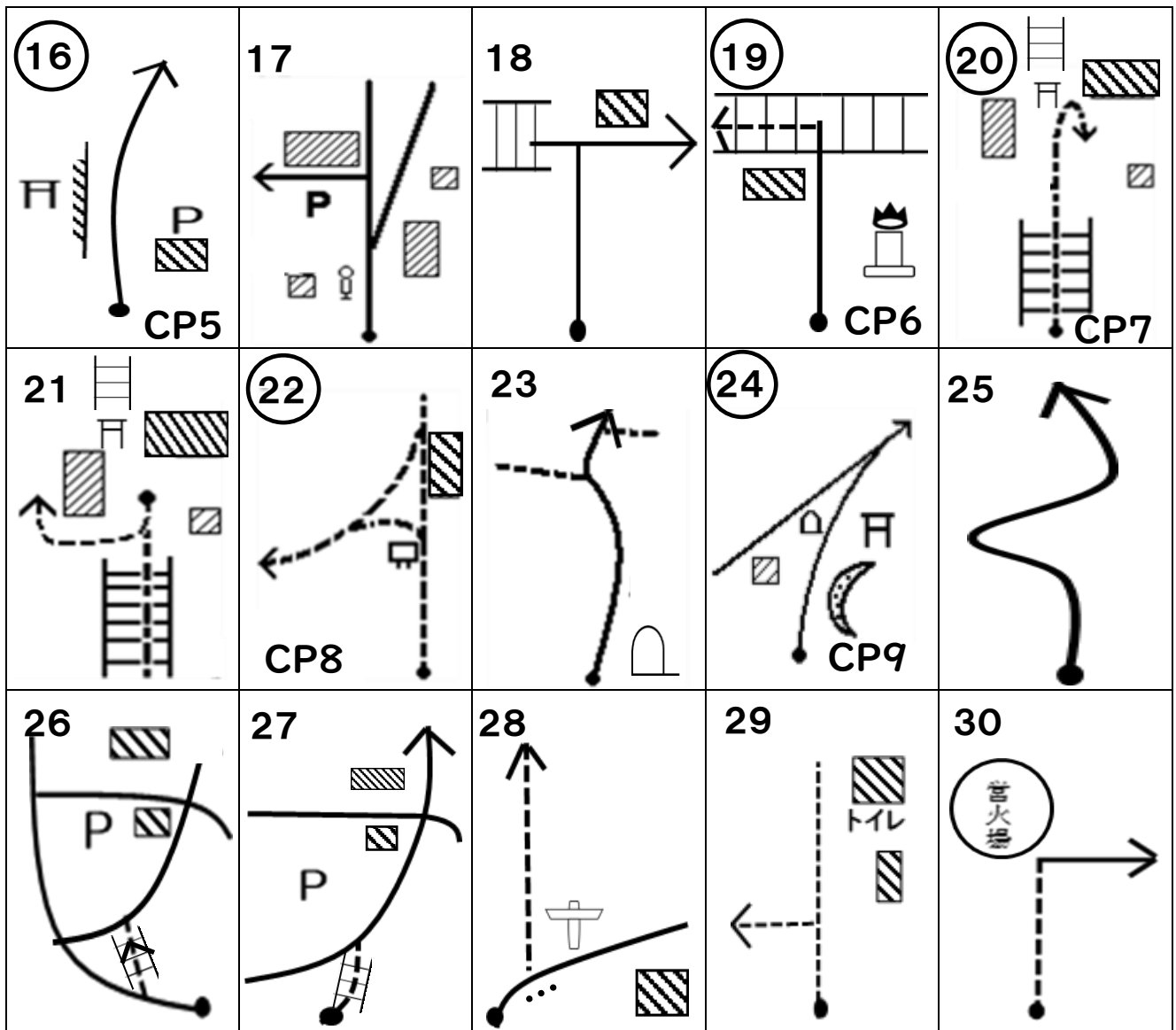
○スタートからゴールまでグループ全員で活動しましょう。

○車道に出るところがあります。車道は一列で端を歩きましょう。

○分からなくなったら、分かる所まで戻りましょう。



※図の番号に○がついているところがCP(問題を解く)ところです。



ず **きごう** **いみ**
<図に出てくる記号の意味>

● 自分の位置	→ 道路	進む方向	⊗ 交番	▨ 石垣
㌞ 鳥居	- - - 小道		▨ 家屋、建物	~~~~~ 金網
🚏 バス停	⌒ 道しるべ		▨ 階段	⋯ 車止め
≡ 橋	⌒ 石碑	P 駐車場	CP 問題を解く場所	

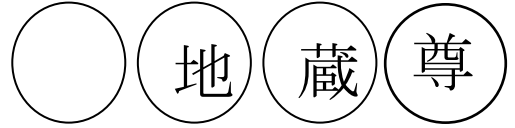
ウォークラリー解答用紙 No.1

チーム名

CP1. 鳥居とりいの額がくに書かいている文字もじを書かき写うつしましょう。

CP2. ここは、添田町そえだまちのキャンプ場じょうです。このキャンプ場じょうの名前なまえは何なんでしょう。

CP3. この場所ばしょの名前なまえは、何なんでしょう。○に当てはまる文字あを書かきましょう。



CP4. みなさんが今、通とおっている山道さんどうは、何なんという歩道ほどうでしょう。

歩道

CP5. 赤い鳥居とりのいはいくつあるでしょう。

つ

CP6. この塔とうの名前なまえは何なんでしょう。

CP7. ここは英彦山ひこさんじんぐう神宮しんぐうです。朱色しゆいろの大きな建物たてものの名前なまえは何なんでしょう。漢字かんじで書かきましょう。

CP8. この建物たてものは、英彦山ひこさんの宝たからや資料しりょうを収しゅう納のうしています。この建物たてものの名前なまえを漢字かんじで書かきましょう。

CP9. この池いけの名前なまえは何なんでしょう。

スタートタイム	時	分	タイム得点
ゴールタイム	時	分	/ 55
かかった時間		分	
課題得点 (各5点)	/ 45		
総得点	/ 100		