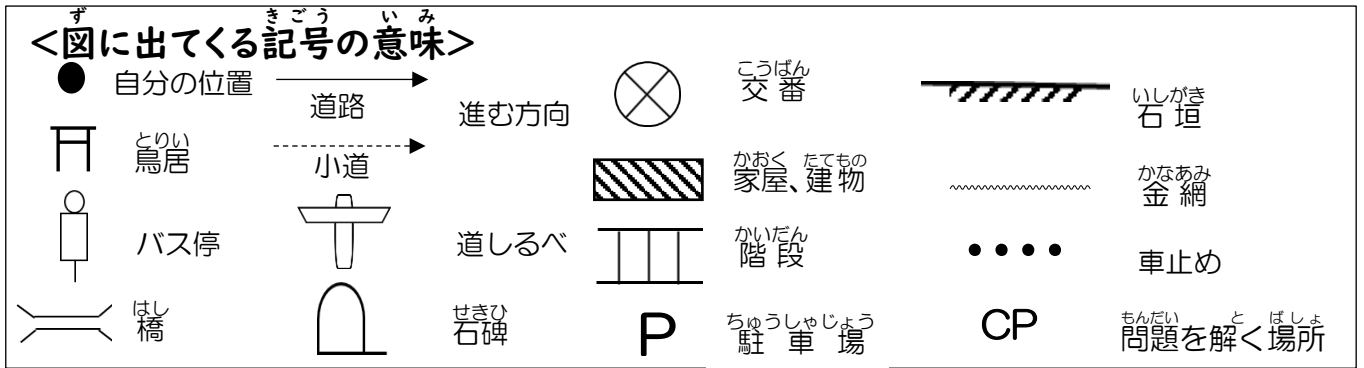
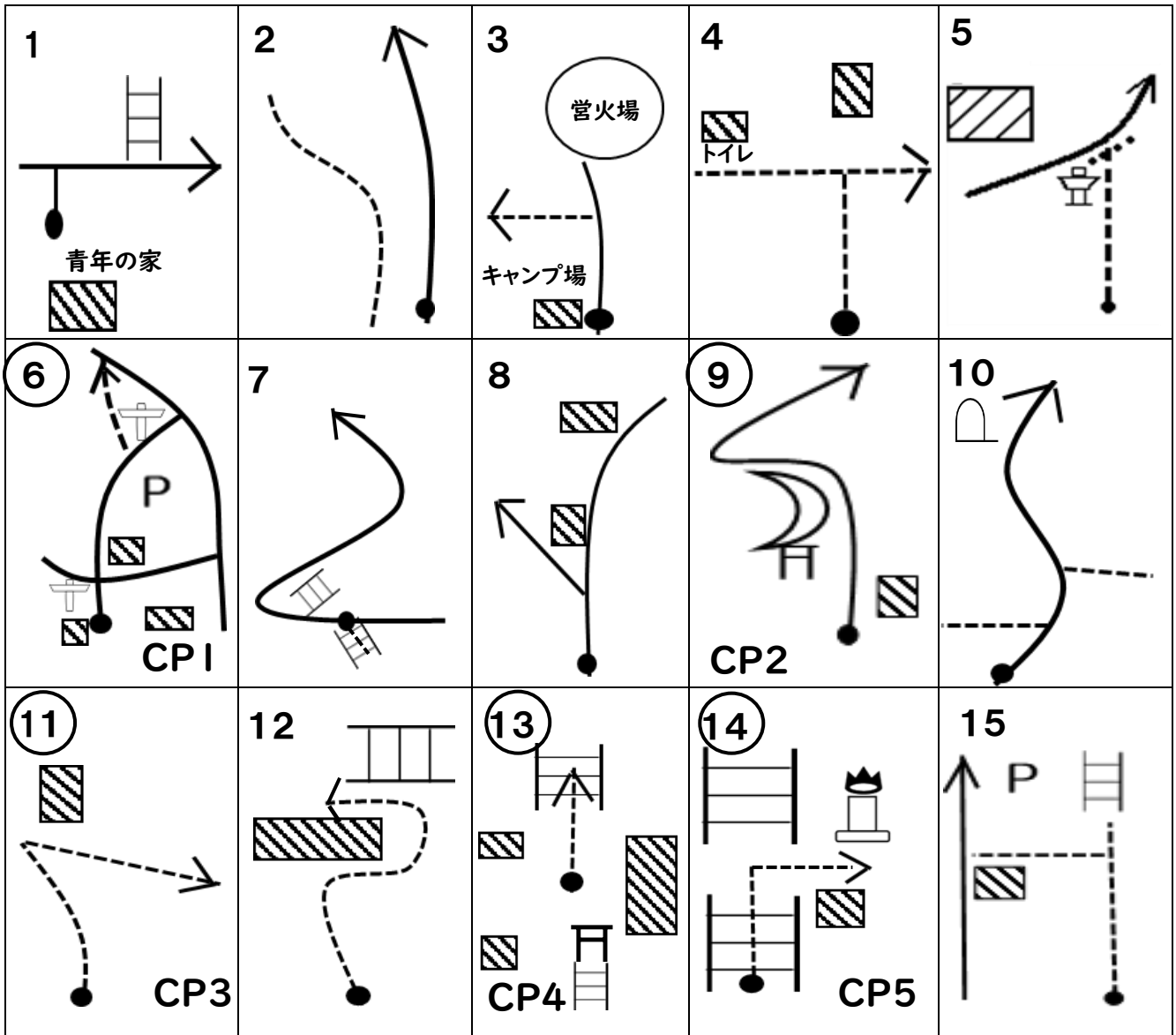


ウォークラリーコース図 No.2

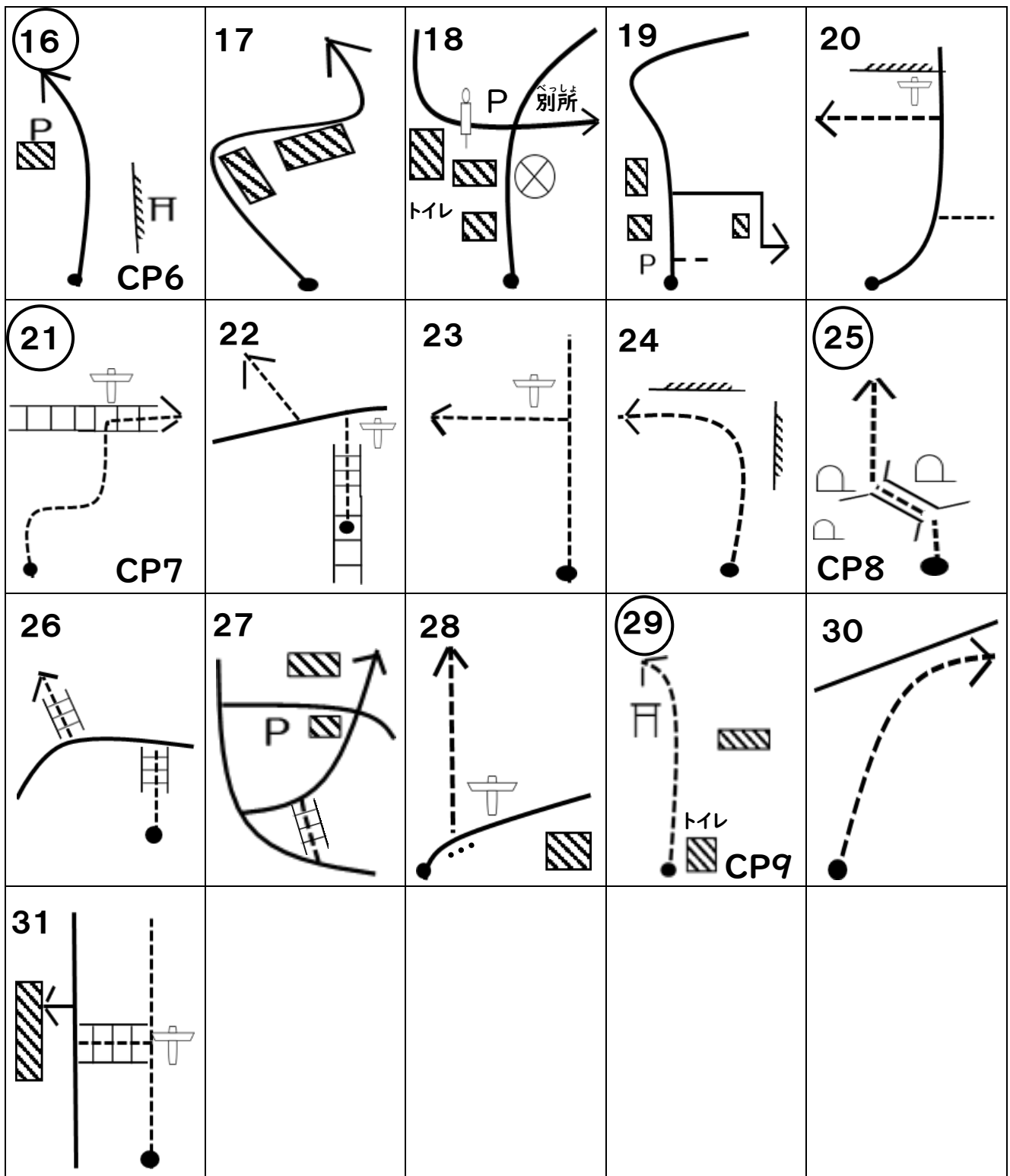


<気をつけること>

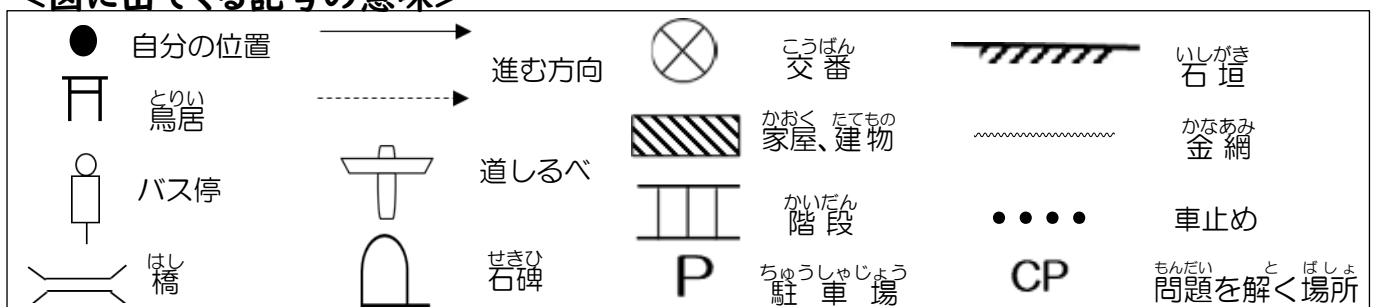
- スタートからゴールまでグループ全員で活動しましょう。
- 車道に出るところがあります。車道は一列で端を歩きましょう。
- 分からなくなったら、分かる所まで戻りましょう。



※ 図の番号に○がついているところが CP (問題を解く) ところです。



<図に出てくる記号の意味>



ウォークラリー解答用紙 No.2

チーム名

CP1. ここは、^{そえだまち}添田町の^{じょう}キャンプ場です。ここの^{じょう}キャンプ場の^{なまえ}名前は^{なん}何でしょう。

CP2. この^{いけ}池の^{なまえ}名前は^{なん}何でしょう。

CP3. この^{たてもの}建物は、^{ひこさん}英彦山の^{たから}宝や^{しりょう}資料を^{しゅうのう}収納しています。この^{たてもの}建物の^{なまえ}名前を^{かんじ}漢字で^か書きましょう。

CP4. ここは^{ひこさんじんぐう}英彦山神宮です。^{しゅういろ}朱色の^{たてもの}大きな^{なまえ}建物の^{なまえ}名前は^{なん}何でしょう。^{かんじ}漢字で^か書きましょう。

CP5. この^{とう}塔の^{なまえ}名前は^{なん}何でしょう。

CP6. 赤い鳥居はいくつあるでしょう。

つ

CP7. みなさんが今、^{とお}通っている^{さんどう}山道は、^{なん}何という^{ほど}歩道でしょう。

歩道

CP8. この^{ばしょ}場所の^{なまえ}名前は、^{なん}何でしょう。○に当てはまる^あ文字を^{もじ}書き^かきましょう。

○ 地 蔵 尊

CP9. 鳥居の額に書いている^{とりのい}文字を^{がく}書き^か写^{もじ}し^かま^うし^うま^つしょう。

スタートタイム	時	分	タイム得点
ゴールタイム	時	分	
かかった時間		分	
課題得点(各5点)	/ 45		
総得点	/ 100		